

課題1 算数のノートに問題を書いて、とりくみましょう。

2 2年のふくしゅう おぼえているかな なまえ 月 日 点
1つ10点

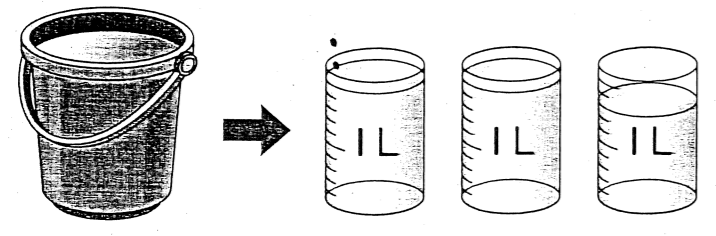
① 次の数を書きましょう。

- ① 1000を4こ、100を9こ、1を5こあわせた数 ()
- ② 100を73こ集めた数 ()
- ③ 10000より1小さい数 ()

② 計算をしましょう。

④	59	⑤	97	⑥	238
	+ 12		+ 6		+ 49
⑦	93	⑧	104	⑨	362
	- 68		- 56		- 34

③ バケツに入っていた水のかさはどれだけですか。



⑩ ()

3 2年のふくしゅう おぼえているかな なまえ 月 日 点
1つ10点

① かけ算をしましょう。

① 3 × 5	② 2 × 7
③ 6 × 6	④ 9 × 5
⑤ 7 × 4	⑥ 8 × 9

② ケーキが6こずつ入った箱が、4箱あります。

⑦ ケーキは、全部で何こありますか。
式

(式5・答え5)

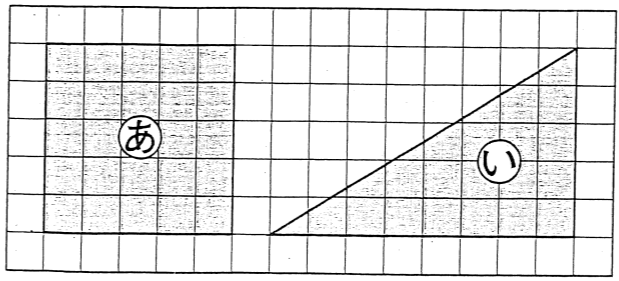


答え ()

⑧ 7こ食べると、何このこりですか。
式

答え ()

③ ①と②の形を何といいますか。



⑨ ① ()

⑩ ② ()

課題2 算数のノートに問題を書いて、とりくみましょう。

3年のぶくしゅう

2 おぼえているかな

月 日

なまえ

点

1 わり算をしましょう。わりきれないものは、あまりも求めましょう。(1つ5点)

①	36 ÷ 4					②	52 ÷ 8				
③	42 ÷ 6					④	61 ÷ 7				

2 計算をしましょう。(1つ10点)

⑤	273			⑥	546			⑦	703		
	+ 428				- 349				- 96		

3 かけ算をしましょう。(1つ5点)

⑧	35			⑨	807			⑩	466		
	× 3				× 9				× 2		
⑪	72			⑫	412			⑬	875		
	× 84				× 37				× 30		

4 □にあてはまる数を書きましょう。(1つ10点)

⑭ 1 km = □ m ⑮ 1 kg = □ g

夏休み前のたしかめ

33 かけ算、時こくと時間
たし算とひき算の筆算

月 日

なまえ

点

1 □にあてはまる数を書きましょう。(1つ10点)

① $7 \times 5 = 5 \times \square$

② $6 \times 8 = 6 \times 7 + \square$

かけ算では、かける数が1ふえると、答えはかけられる数だけ大きくなるよ。




2 かけ算をしましょう。(1つ5点)

- ③ 10×8
- ④ 3×10
- ⑤ 9×0
- ⑥ 0×0

3 次の時こくや時間をもとめましょう。(1つ15点)

⑦ 2時50分から40分後の時こく ()

⑧ 9時50分から10時40分までの時間 ()



4 計算をしましょう。(1つ5点)

⑨ $\begin{array}{r} 249 \\ + 591 \\ \hline \end{array}$ ⑩ $\begin{array}{r} 389 \\ + 619 \\ \hline \end{array}$ ⑪ $\begin{array}{r} 4783 \\ + 1642 \\ \hline \end{array}$

⑫ $\begin{array}{r} 852 \\ - 655 \\ \hline \end{array}$ ⑬ $\begin{array}{r} 203 \\ - 136 \\ \hline \end{array}$ ⑭ $\begin{array}{r} 7468 \\ - 3974 \\ \hline \end{array}$